

3<sup>a</sup>**GEOGRAFIA**

Figura n. 1

ELEMENTO	DISEGNO	NATURALE O ANTROPICO?	
		<input type="checkbox"/> N	<input type="checkbox"/> A
.....		<input type="checkbox"/> N	<input type="checkbox"/> A
.....		<input type="checkbox"/> N	<input type="checkbox"/> A

---


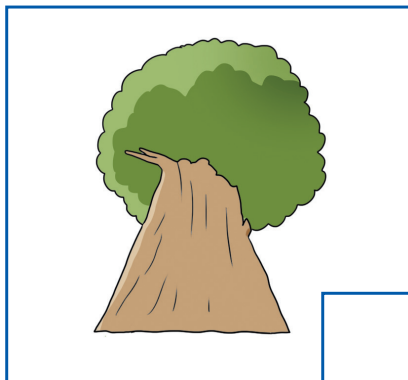
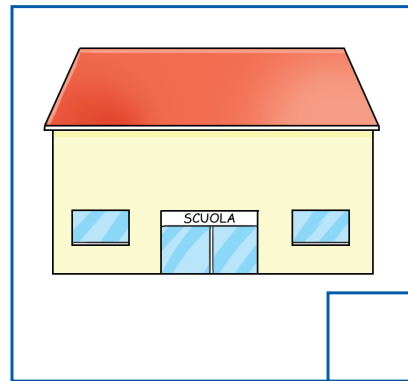
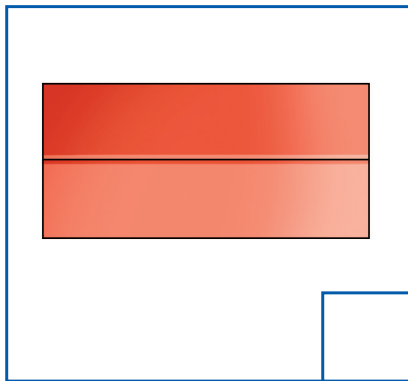

ELEMENTO	DISEGNO	NATURALE O ANTROPICO?	
		<input type="checkbox"/> N	<input type="checkbox"/> A
.....		<input type="checkbox"/> N	<input type="checkbox"/> A
.....		<input type="checkbox"/> N	<input type="checkbox"/> A

3<sup>a</sup>

# GEOGRAFIA

## Attività n. 1

Osserva il disegno e associa ogni elemento rappresentato nei riquadri al personaggio che lo "vede", riportando il numero corrispondente; poi per ognuno scrivi da quale punto di vista è osservato.

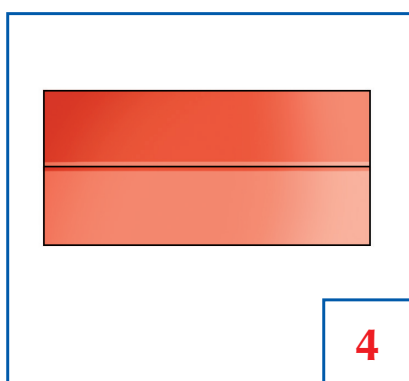



3<sup>a</sup>**GEOGRAFIA**

Attività n. 1

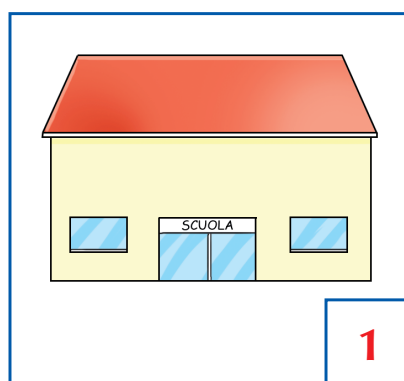
**SOLUZIONE**

Osserva il disegno e associa ogni elemento rappresentato nei riquadri al personaggio che lo "vede", riportando il numero corrispondente; poi per ognuno scrivi da quale punto di vista è osservato.



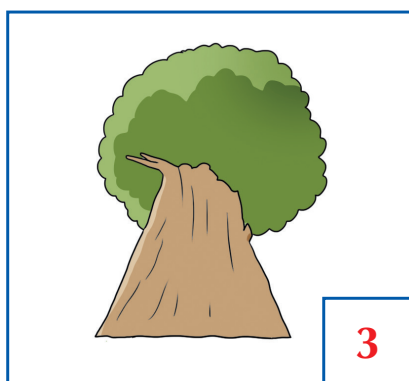
4

dall'alto




1

frontale



3

dal basso



2

dall'alto

**GEOGRAFIA**

Pag. 69 - Paragrafo "Disegni che orientano"

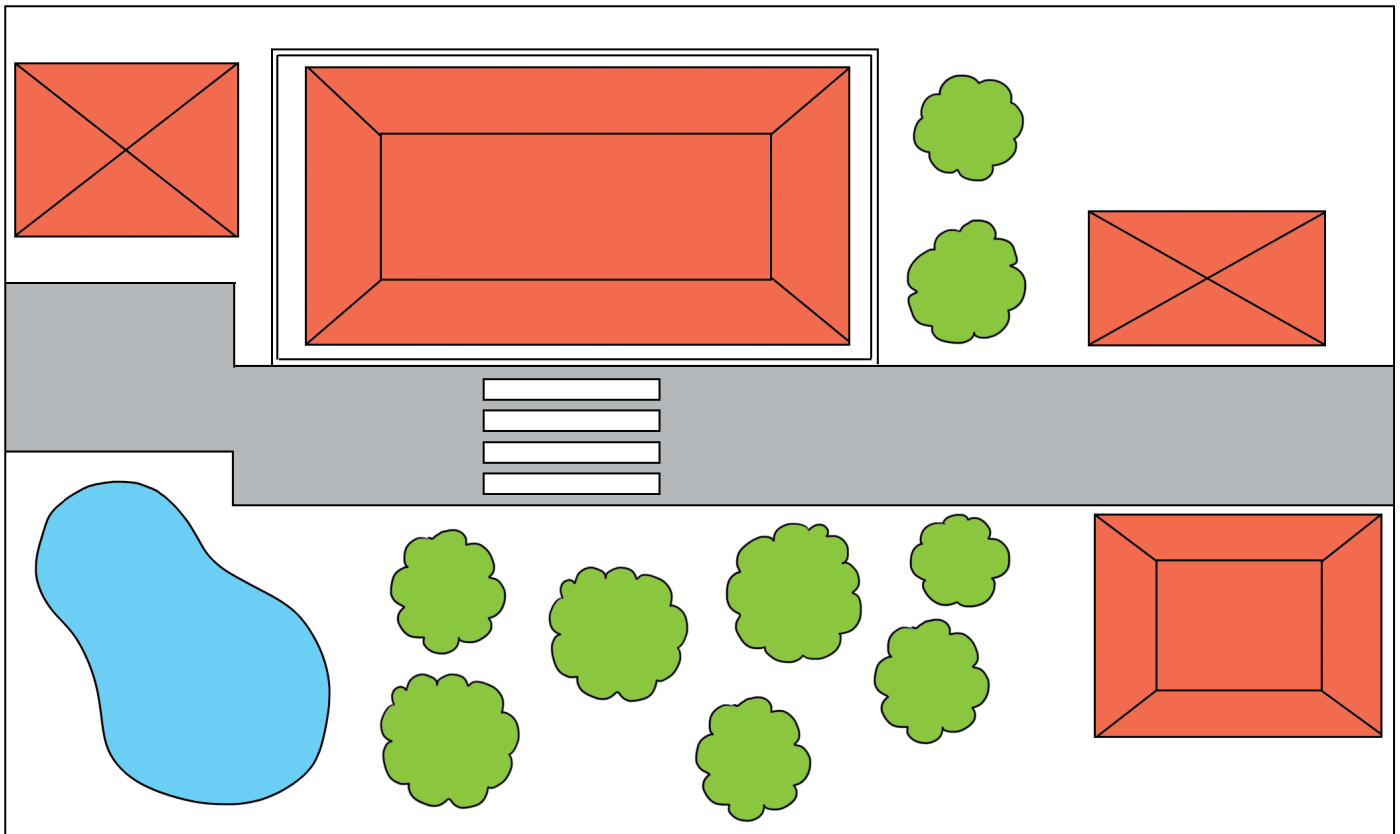
Due amici, Alberto e Lucia, che frequentano scuole diverse, hanno raccontato il percorso fatto nei dintorni della scuola durante una passeggiata e hanno rappresentato la zona in una mappa. Leggi i due testi, osserva la rappresentazione e indica con una X quale bambino l'ha disegnata.

 Alberto

La mia scuola ha la forma di una grande C, con un cortile interno. Siamo usciti dal cancello a destra e abbiamo imboccato una strada che porta alla piazza del paese. Intorno alla scuola non ci sono abitazioni, ma solo prati.

 Lucia

La mia scuola è di forma rettangolare, circondata da una cancellata. Ieri siamo usciti e abbiamo attraversato la strada sulle strisce pedonali per andare al parco situato di fronte, dove c'è anche un laghetto.



3<sup>a</sup>**GEOGRAFIA**

Pag. 69 - Paragrafo "Disegni che orientano"

**SOLUZIONE**

Due amici, Alberto e Lucia, che frequentano scuole diverse, hanno raccontato il percorso fatto nei dintorni della scuola durante una passeggiata e hanno rappresentato la zona in una mappa. Leggi i due testi, osserva la rappresentazione e indica con una X quale bambino l'ha disegnata.

 Alberto

La mia scuola ha la forma di una grande C, con un cortile interno. Siamo usciti dal cancello a destra e abbiamo imboccato una strada che porta alla piazza del paese. Intorno alla scuola non ci sono abitazioni, ma solo prati.

 Lucia

La mia scuola è di forma rettangolare, circondata da una cancellata. Ieri siamo usciti e abbiamo attraversato la strada sulle strisce pedonali per andare al parco situato di fronte, dove c'è anche un laghetto.

